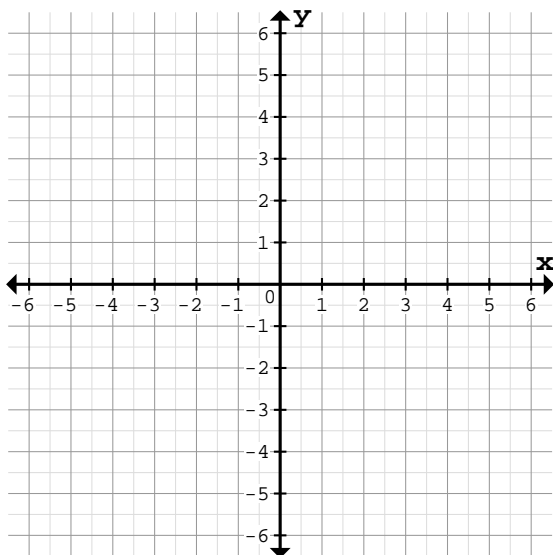


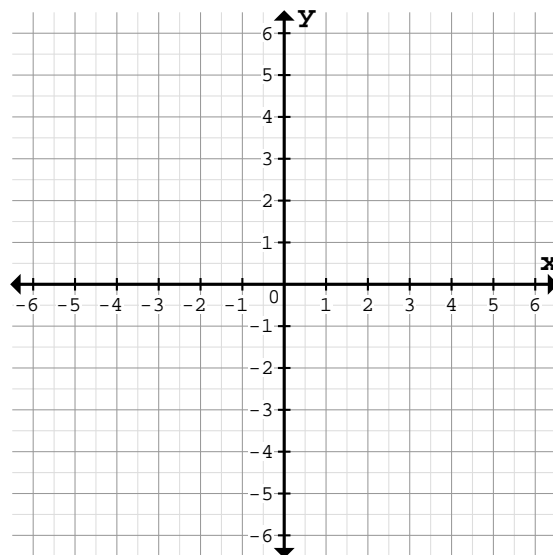
Zeichne den Graph mit Hilfe eines Steigungsdreiecks am Koordinatenursprung(0/0):

1 a)



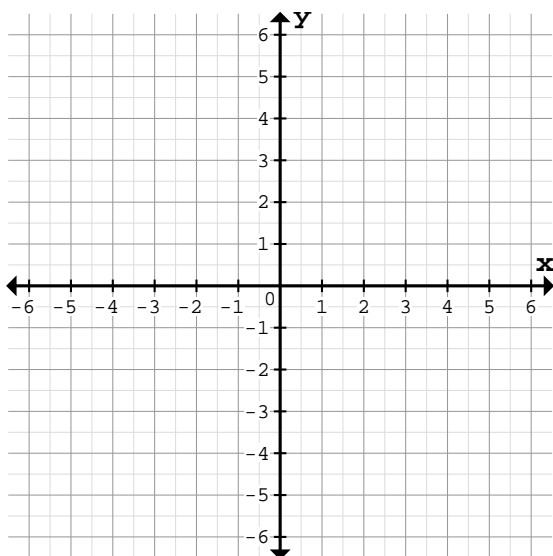
$f(x) = -\frac{3}{4}x$	Steigung:	$m =$
Horizontale Schritte:		
Vertikale Schritte:		

b)



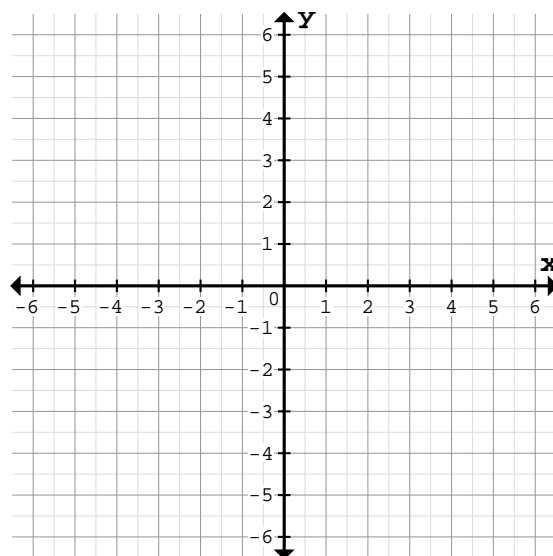
$f(x) = \frac{3}{5}x$	Steigung:	$m =$
Horizontale Schritte:		
Vertikale Schritte:		

2 a)



$f(x) = -\frac{5}{6}x$	Steigung:	$m =$
Horizontale Schritte:		
Vertikale Schritte:		

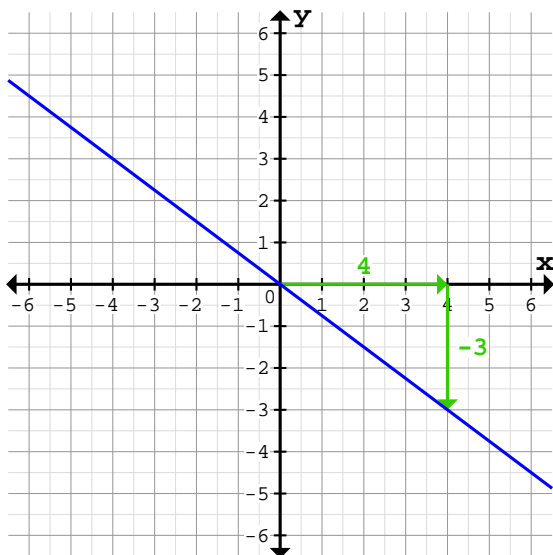
b)



$f(x) = 3x$	Steigung:	$m =$
Horizontale Schritte:		
Vertikale Schritte:		

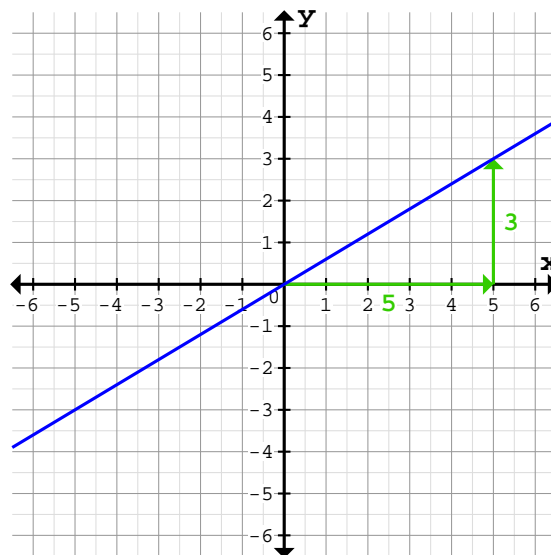
Zeichne den Graph mit Hilfe eines Steigungsdreiecks am Koordinatenursprung(0/0):

1 a)



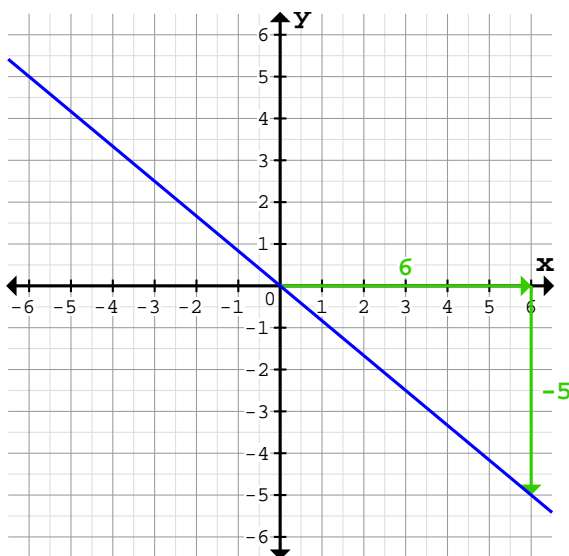
$f(x) = -\frac{3}{4}x$	Steigung:	$m = -\frac{3}{4}$
Horizontale Schritte:		4 nach rechts
Vertikale Schritte:		3 nach unten

b)



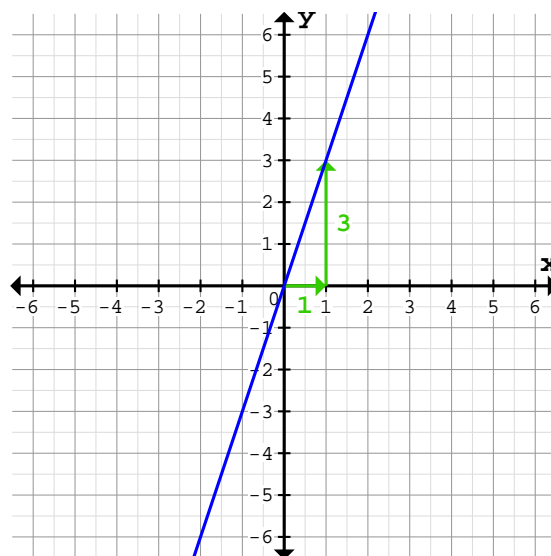
$f(x) = \frac{3}{5}x$	Steigung:	$m = \frac{3}{5}$
Horizontale Schritte:		5 nach rechts
Vertikale Schritte:		3 nach oben

2 a)



$f(x) = -\frac{5}{6}x$	Steigung:	$m = -\frac{5}{6}$
Horizontale Schritte:		6 nach rechts
Vertikale Schritte:		5 nach unten

b)



$f(x) = 3x$	Steigung:	$m = 3$
Horizontale Schritte:		1 nach rechts
Vertikale Schritte:		3 nach oben